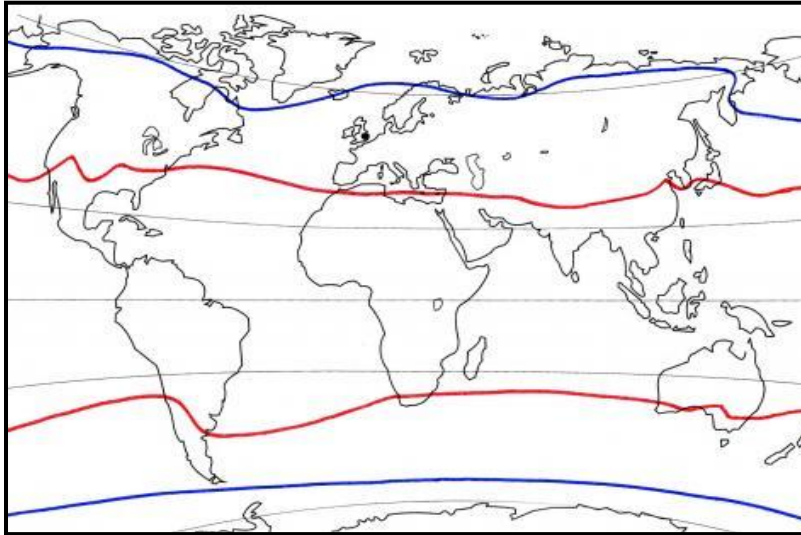
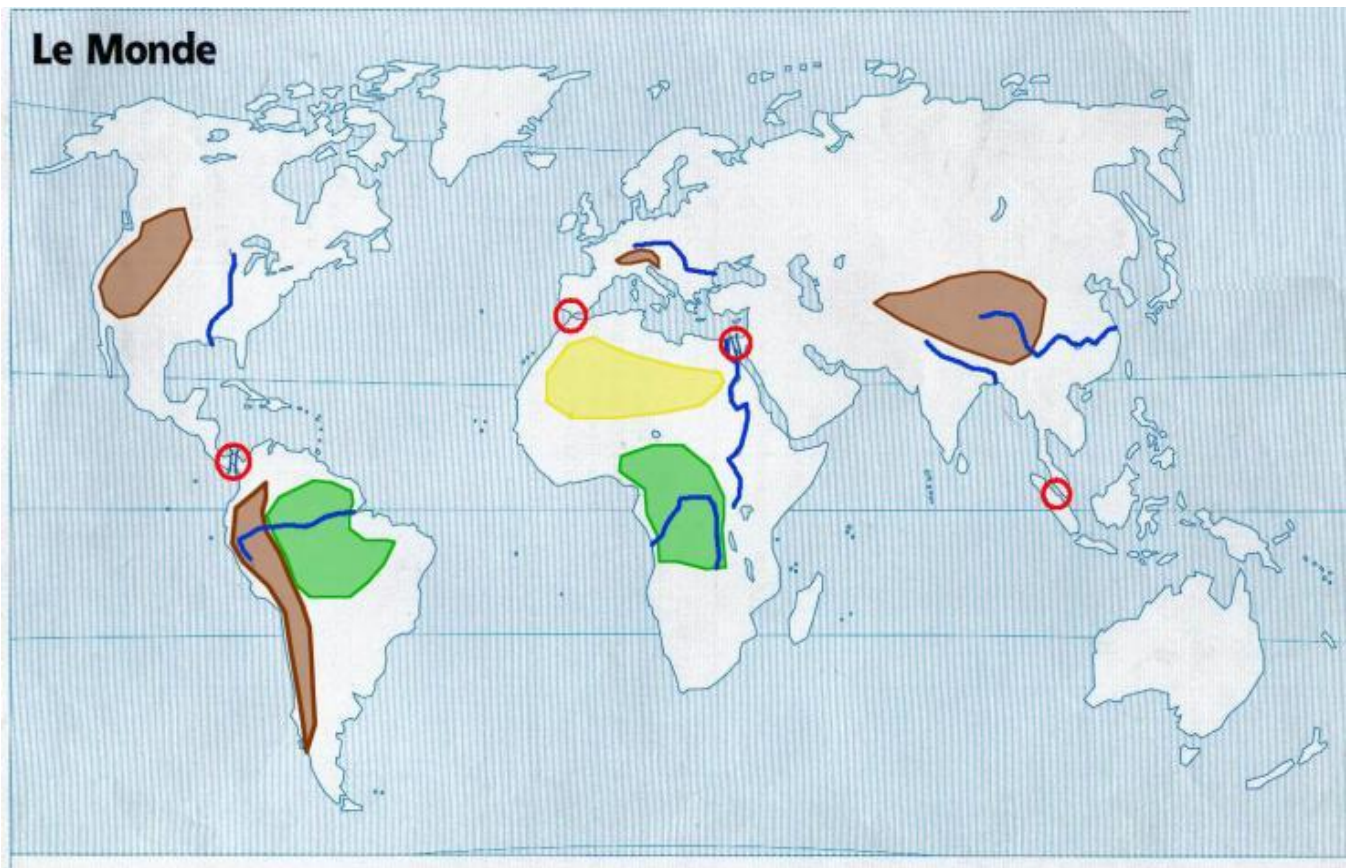


**Exercice 1 : Localiser** les principales zones climatiques de la planète : **colorier la carte des zones climatiques** (3 couleurs)/**légendez** dans le tableau / **complétez le tableau** avec les noms des climats correspondant aux 3 grandes zones (ici dans le désordre !!! : climat équatorial / climat méditerranéen / climat polaire / climat désertique / climat océanique / climat tropical / climat continental)



légende	Zones climatiques	Les climats de chaque zone
	Zone froide	-
	Zone tempérée	- - -
	Zone chaude	- - -

**Exercice 2 : Localiser** les grands ensembles de relief : **Sur la carte ci-dessus,** entraînez vous à replacer les 4 montagnes, les 6 fleuves, le Sahara, les grandes forêts (voir correction sur diaporama éventuellement)



Exercice 3 : vous devez reconnaître les trois grandes formes du relief



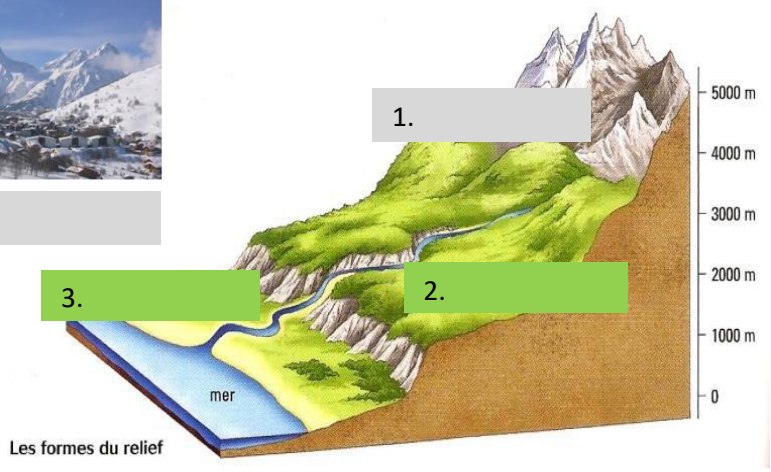
3.



2.



1.



-Ecris dans les cadres (sous les photos et sur le dessin) les formes du relief correspondantes

**Revoir les photos du diaporama pour reconnaître les 3 sortes de relief**

Exercice 4 : je sais -quelles sont les contraintes dans un milieu difficile (désert ou montagne) et comment les hommes s'adaptent et transforment ce milieu



- Habiter un désert chaud :

1) Donne 2 contraintes naturelles de ce milieu :

2) Comment les hommes se sont-ils adaptés à ce milieu de façon traditionnelle ?

3) Comment les hommes exploitent-ils les déserts aujourd'hui (au moins 2 ex) ? Cela pose-t-il problème pour les déserts ?



Habiter une haute montagne

1) donne 3 contraintes naturelles de ce milieu :

2) Comment les hommes exploitent-ils et transforment-ils les montagnes aujourd'hui?

3) Cette exploitation de la montagne peut-elle mettre en danger ce milieu (justifie) ?